

決賽必答題 (Set A-D)

Set A

1. 為以下成語補上適當的顏色字詞。

燈 ___ 酒 ___

Ans: 燈紅酒綠

2. What is the name of the fruit in the picture?



Ans: blueberry

3. Spell the past participle of 'forget'.

Ans: F O R G O T T E N

4. 請以規範普通話翻譯並讀出以下廣東話詞語，錯讀詞語不給分：
逗利是

Ans: 討紅包 / 討紅封包

5. 選擇題：大於 200 的三角形數中最小是什麼？

A. 210 B. 220 C. 240 D. 245

Ans: A

6. 在林奈的分類系統中，生物按相似的構造特徵歸入不同層次。
分類的層次為：界、門、綱、目、科、屬及 _____。

Ans: 種

7. 已故中國領導人鄧小平提出的「改革開放」政策於哪一年開始實行？

Ans: 1978 年

8. 2018-2019 年度財政預算案已於 2 月 28 日由財政司司長在立法會發表，財政司司長是哪一位？

Ans: 陳茂波

9. 胡志偉現時是哪一個政黨的主席？

Ans: 民主黨

10. 選擇題：中國在哪一年加入世界貿易組織(即世貿)?

A. 2000 B. 2001 C. 2002 D. 2003

Ans: B

Set B

1. 為以下成語補上適當的顏色字詞。

萬 ___ 千 ___

Ans: 萬紫千紅

2. What is the name of the fruit in the picture?



Ans: Durian

3. Spell the past participle of 'bite'.

Ans: BITTEN

4. 請以規範普通話翻譯並讀出以下廣東話詞語，錯讀詞語不給分：

年卅晚

Ans: 除夕/大除夕

5. 選擇題：大於 200 的 13 的倍數中最小是什麼？

A. 202 B. 204 C. 206 D. 208

Ans: D

6. 水銀在室溫的環境是什麼形態？

Ans: 液態

註解 [yyw1]: /

7. 已故中國領導人毛澤東於哪一年發動「文化大革命」？

Ans: 1966 年

8. 財政司司長在 2018-2019 年度財政預算案中，提出退稅予繳交薪俸稅之人士，每位人士最多可獲退稅多少？

Ans: 3萬元

9. 吳文遠現時是哪一個政黨的主席？

Ans: 社民連 (社會民主連線)

10. 選擇題：聯合國在哪一年成立？

A. 1900 B. 1922 C. 1945 D. 1967

Ans: C

Set C

1. 為以下成語補上適當的顏色字詞。

___ ___ 不接

Ans: 青黃不接

2. What is the name of the fruit in the picture?



Ans: passion fruit

3. Spell the past participle of 'hide'.

Ans: H I D D E N

4. 請以規範普通話翻譯並讀出以下廣東話詞語，錯讀詞語不給分：
唔對路

Ans: 不對勁 / 不對勁兒

5. 選擇題：大於 200 的平方數中最小是什麼？

A. 204 B. 216 C. 225 D. 256

Ans: C

6. 水動火箭的操作原理，以牛頓第三定律為主。當高壓空氣把水激發出來時，強大的推力會把水動火箭推動向前。牛頓第三定律說的是哪兩種力？

Ans: 作用力及反作用力

7. 現任中共總書記習近平於哪一年發表「十九大工作報告」？

Ans: 2017 年

8. 財政司司長在 2018-2019 年度財政預算案中，估計政府於 2017-2018 年度之財政盈餘是多少？

Ans: 1380 億元

9. 梁家傑現時是哪一個政黨的主席？

Ans: 公民黨

10. 選擇題：香港第七屆立法會選舉將在哪一年舉行？

A. 2018 B. 2019 C. 2020 D. 2021

Ans: C

Set D

1. 為以下成語補上適當的顏色字詞。

___ 出於 ___

Ans: 青出於藍

2. What is the name of the fruit in the picture?



Ans: star fruit / carambola

3. Spell the past participle of 'blow'.

Ans: B L O W N

4. 請以規範普通話翻譯並讀出以下廣東話詞語，錯讀詞語不給分：
炮仗

Ans: 爆竹

5. 選擇題：大於 200 的質數中最小是什麼？

A. 201 B. 203 C. 209 D. 211

Ans: D

6. 魷魚的血液是什麼顏色的？

Ans: 藍色

7. 中共總書記習近平在「十九大工作報告」中表示中國將會於哪一年消滅「絕對貧窮」？

Ans: 2020 年

8. 財政司司長在 2018-2019 年度財政預算案中，預留多少款項支援創新科技發展？

Ans: 500 億元

9. 李慧琼現時是哪一個政黨的主席？

Ans: 民建聯(民主建港聯盟)

10. 世界貿易組織(即世貿)於哪一年正式成立？

A. 1993 B. 1994 C. 1995 D. 1996

Ans: C

決賽搶答題(不設補答)

1. 試唸出以下句子中劃有雙間線的字字的讀音。

在警方的努力下，近月有關祈福黨的騙案終於被遏止了。

Ans: 遏，讀音「壓」

2. 請為以下的成語以接龍方式配上適當的字詞。

四大皆()前絕()生可()首畏()大不()以輕()

Ans: 四大皆空前絕後生可畏首畏尾大不掉以輕心

3. Who is the president of the United States now?

Ans: Donald Trump

4. LRT is a part of MTR, what is the full name of LRT?

Ans: Light Rail Transit

5. Spell the word...

Ans: explanation

6. In which country did the 2018 Winter Olympic Games hold?

Ans: South Korea

7. Multiple choice: Which of the following is a fizzy drink?

A. Coffee B. Milk C. Coca Cola D. Chinese Tea

Ans: C

8. Multiple choice: Which of the following countries is in Europe?

A. Malaysia B. Spain C. Australia D. Columbia

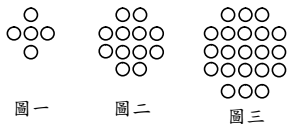
Ans: B

9. 計算以下數式：

$$\frac{1}{1} + \frac{2+3+4}{3} + \frac{5+6+7+8+9}{7} + \frac{10+11+12+13+14+15+16}{13} =$$

Ans: 16

10. 下圖中，圖一有 5 個圓點，圖二有 12 個圓點，圖三有 21 個圓點，若按此模式繼續作圖，那麼圖五應有多少圓點？



Ans: 45

11. 中國現時有兩個全國性會議每年均在初春的大致相同時段舉行，故常被合稱為「兩會」。試說出這兩個會議的簡稱。

Ans: 人大(人民代表大會) 和 政協(中國人民政治協商會議)

12. 行政長官林鄭月娥於本星期二宣布，由下學年開始，為全港公營中、小學提供津貼推廣閱讀，預計每年開支是多少？

Ans: 4800 萬

13. 警司朱經緯於2014年佔領行動期間，因毆打途人鄭仲恆而被裁定襲擊致造成身體傷害罪名成立，他使用的武器是甚麼？

Ans: 警棍

14. 2017年7月，中國第一艘航空母艦訪問香港，這艘母艦的名字是甚麼？

Ans: 遼寧號

15. 2017年香港受一個超強颱風吹襲而懸掛了一次10號風球，該超強颱風的名字是甚麼？

Ans: 天鴿

16. 香港電影金像獎頒獎禮剛於星期日舉行，哪一部電影獲得最佳電影獎？

Ans: 明月幾時有

17. 哪一位中國諾貝爾和平獎得獎者於2017年7月去世？

Ans: 劉曉波

18. 日本全國分為47個一級行政區，即「一都」、「一道」、「二府」及四十三縣，「一道」是指哪一個地方？

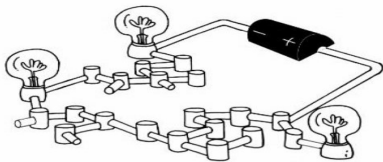
Ans: 北海道

19. 選擇題：海洛英在醫學上有甚麼用途？

A. 舒緩痛楚 B. 止咳 C. 麻醉 D. 減肥

Ans: A

20. 下圖的電路通電後有多少個燈泡會亮起？

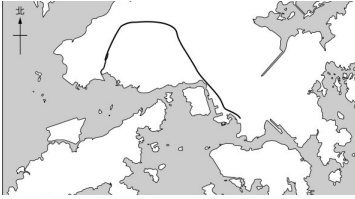


Ans: 2

21. 電影「黑暗對峙」是講述英國哪一位著名首相的事跡？

Ans: 邱吉爾

22. 下圖是港鐵哪條線路？



Ans: 西鐵線

23. 最近一批美國雞蛋因為受細菌感染需要回收，這些雞蛋感染的是甚麼細菌？

Ans: 沙門氏菌

24. 下圖是哪一位中國歷史名人的照片？



Ans: 蔣介石

25. 有六位立法會前議員因宣誓無效而失去立法會議員資格，請說出其中三位的名字。

Ans: 游蕙禎／梁頌恆／梁國雄／姚松炎／劉小麗／羅冠聰

26. 最近港珠澳大橋有一個人工島被質疑防波堤崩塌，這條大橋是連接哪三個城市的？

Ans: 香港、珠海、澳門

27. 中華人民共和國國歌「義勇軍進行曲」的填詞人是誰？

Ans: 田漢

28. 去年本港一位前高官何志平因涉嫌行賄在美國被捕，他曾任香港哪個政策局的局長？

Ans: 民政事務局

29. 上星期美國、英國與法國聯軍空襲敘利亞，懲罰該國使用化學武器，敘利亞首都都是哪一個城市？

Ans: 大馬士革

30. 立法會地方選區補選已於2018年3月於3個地區舉行，以填補因議員被取消資格而出現的空缺。該3個地區分別是香港島、九龍西與及哪一區呢？

Ans: 新界東

決賽附加題(不設補答)

1. 現任美國總統特朗普屬於哪一個政黨？

Ans: 共和黨

2. 中國歷史上，哪一個朝代的版圖最大？

Ans: 元朝

3. Name the flower on the flag of Hong Kong.

Ans: Bauhinia

4. 香港十八個行政分區中，哪一個區的人口最多？

Ans: 沙田

5. 哪一個機構是中國國家最高行政機關？

Ans: 國務院

台下觀眾搶答題(可以補答)

1. 中國最長的河流是哪一條？

Ans: 長江

2. 乘坐西鐵由屯門去荃灣西，元朗站之後是甚麼站？

Ans: 錦上路

3. 選擇題：以下哪一個並非溫室氣體？

A. 二氧化碳 B. 水蒸氣 C. 臭氧 D. 氬氣

Ans: D

4. 選擇題：下列哪項是傳播瘧疾的媒介？

A. 瘧原蟲 B. 蚊 C. 紅血細胞 D. 病毒

Ans: B

5. 今天，即 2018 年 4 月 21 日是星期六，那麼 2020 年 4 月 21 日是星期幾？

Ans: 星期二

6. What is the capital of New Zealand?

Ans: Wellington

7. Which part in the following map represents "Germany"?



Ans: B

8. 右圖是哪一個城市的區旗？



Ans: 澳門

9. 「螃蟹過馬路」的歌後語是什麼？(提示：是一四字詞)

答案：橫行霸道

10. 年滿幾多歲的香港居民，可以申請長者咭？

Ans: 六十五歲

11. 現任英國首相文翠珊屬哪一個政黨？

Ans: 保守黨