

2015【金龍盃】小學常識問答比賽 - 初賽
限時 60 分鐘，請將所有答案填在答題紙上。

甲部(選擇題) – 每題 2 分，總共 60 分。

1. 以下哪項是香港政府總部的所在地？
 - A. 灣仔
 - B. 金鐘
 - C. 中環
 - D. 西環
2. 以下哪個不是 2015 年港府發售新居屋的地點？
 - A. 青衣
 - B. 荃灣
 - C. 沙田
 - D. 太和
3. 以下哪個是印度的首都？
 - A. 新德里
 - B. 孟買
 - C. 加爾各答
 - D. 雅加達
4. 俄羅斯的貨幣是
 - A. 克朗
 - B. 盧布
 - C. 歐羅
 - D. 法郎
5. 下列城市中，哪個不是中國現行的直轄市？
 - A. 天津市
 - B. 重慶市
 - C. 上海市
 - D. 廣州市
6. 以下哪個國家是石油輸出量最多的國家？
 - A. 沙特阿拉伯
 - B. 美國
 - C. 伊拉克
 - D. 俄羅斯
7. 下列哪個國家是金磚五國之一？
 - A. 印度
 - B. 英國
 - C. 印尼
 - D. 阿根廷
8. 最近巴黎【查理周刊】因為諷刺那一個宗教而遭到槍擊？
 - A. 伊斯蘭教
 - B. 佛教
 - C. 基督教
 - D. 印度教
9. 行政長官在今年的施政報告內批評哪一間大學學生會的刊物鼓吹香港獨立？
 - A. 中文大學
 - B. 香港大學
 - C. 嶺南大學
 - D. 理工大學
10. 哪一位前政務司司長因串謀藉公職作不當行為等 5 項控罪而罪成，遭到法官判刑 7 年半？
 - A. 許仕仁
 - B. 陳方安生
 - C. 梁錦松
 - D. 曾蔭權
11. 以下句子運用了甚麼修辭技巧？

「一個和尚挑水吃，兩個和尚抬水吃，三個和尚沒水吃。」

 - A. 誇張
 - B. 比喻
 - C. 對偶
 - D. 層遞
12. 「從容不迫」一詞，「從」的讀音是甚麼？
 - A. 鬆
 - B. 蟲
 - C. 送
 - D. 中
13. 「飛」字的部首為何？
 - A. 人
 - B. 升
 - C. 飛
 - D. 几

14. 以下哪個四字詞是「鬼鬼祟祟」的反義詞？

- A. 磊磊落落
- B. 戰戰兢兢
- C. 瘋瘋癲癲
- D. 沸沸揚揚

15. Unfortunately, three people _____ in the car accident yesterday.

- A. die
- B. were die
- C. dead
- D. died

16. Last Friday, my mother came _____ her secondary school classmate in a department store and they chatted for a long time.

- A. across
- B. out
- C. onto
- D. up

17. Which of the following is not a kind of fruits?

- A. passion fruit
- B. mandarin
- C. asparagus
- D. pomelo

18. Which of the following word has a different meaning from others?

- A. blissful
- B. playful
- C. delighted
- D. joyful

19. A woman _____ purse was stolen called the police last night.

- A. which
- B. whose
- C. that
- D. if

20. 求 135, 315, 513 的最大公因數(H.C.F.)。

- A. 1
- B. 3
- C. 9
- D. 27

21. 以下哪個數是羅馬數字 MCMXCVI 的數值？

- A. 1984
- B. 1986
- C. 1994
- D. 1996

22. 以下哪個是合成數？

- A. 139
- B. 137
- C. 133
- D. 131

23. 把 1 至 1000 這 1000 個數字寫下來，一共有多少個數字“1”呢？

- A. 300
- B. 301
- C. 400
- D. 501

24. 設 $x@y = 2(x+y) - xy$ ，即
 $3@4 = 2(3+4) - (3)(4) = 2$ 。
 $2@5 =$


- A. 4.
- B. 5.
- C. 6.
- D. 7.

25. 下圖中的訓練池 B 位於主池 A 旁邊。訓練池 B 的面積較細小，水深也較淺。如果兩池同時受陽光照射，以下哪項有關兩池水溫上升的敘述是正確的？假設兩池的初始水溫相同。



- A. 訓練池 B 的水溫上升較快，因為水深較淺。
- B. 訓練池 B 的水溫上升較快，因為它的表面面積較小。
- C. 主池 A 的水溫上升較快，因為水深較深。
- D. 主池 A 的水溫上升較快，因為它的表面面積較大。

26. 圖示一個時鐘在平面鏡中所成的像。時鐘顯示什麼時間?



- A. 3:58
B. 4:02
C. 7:58
D. 8:02
27. 以下哪一項不是電動車的優點?
- A. 不排放廢氣
B. 每公里行車所需的能量，比以化石燃料(例如汽油、柴油)推動的車輛為低
C. 行程遠
D. 馬達無須經化學燃燒推動，因此其產生的震盪及噪音比傳統汽油引擎輕緩得多
28. 在油裡滴幾滴水，水滴會
- A. 在油中溶解了
B. 浮在油上，不能在油中溶解
C. 沉在油底，不能在油中溶解
D. 令油變色
29. 在呼吸作用的過程中，食物會被燃燒而釋能量及
- (1) 二氧化碳
(2) 氧
(3) 水
- A. 只有 (1)
B. 只有 (1) 及 (2)
C. 只有 (1) 及 (3)
D. (1), (2) 及 (3)
30. 以相同的重量作比較，以下哪種食物含有最高能量?
- A. 全脂牛奶
B. 蒸豬肉餅
C. 炸雞翼
D. 珍珠奶茶

乙部(短答題) - 總分 40 分，請將所有答案填在答題紙上。

1. 以下成語都欠了一個字，請用正楷及清楚筆劃填充。每個正確答案可獲一分。 (4分)

(a) 作繭自_____ (b) _____之若驚 (c) 首鼠兩_____ (d) 虎_____龍盤

2. 請寫出以下香港官員的名字。每個正確答案可獲一分。 (5分)

(a) 財政司司長 _____

(b) 運輸及房屋局局長 _____

(c) 保安局局長 _____

(d) 環境局局長 _____

(e) 食物及衛生局局長 _____

3. Rearrange the letters to form a meaningful word. The first one is done for you as example. 1 mark is awarded to each correct answer. (5 marks)

		<u>Answer</u>
Example	OTRES	STORE
(a)	LEAPP	_____
(b)	ARMYPIR	_____
(c)	DFGHILOS	_____
(d)	DUSTTEN	_____
(e)	BCOOTER	_____

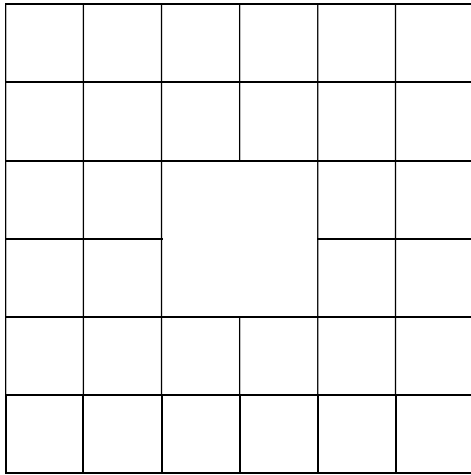
4. Find and circle all of the words that are hidden in the grid. The words may be hidden in any direction. The first three words have been done. 1 mark is awarded for each correct answer. (7 marks)

BEIJING	MOSCOW	AUCKLAND
TAIPEI	BANGKOK	MANILA
TOKYO	CANBERRA	
LONDON	BERLIN	

C	A	N	B	E	B	A	N	G	K	O	K	I	P
O	L	A	R	R	E	B	N	A	C	Y	O	I	I
T	E	U	U	E	I	I	P	P	L	N	A	E	O
O	T	C	R	T	J	Y	G	I	G	N	P	L	L
K	E	K	A	L	I	N	A	M	A	I	E	A	I
Y	R	L	L	W	N	E	L	Y	A	L	L	I	L
I	G	A	G	O	G	N	R	T	T	R	O	N	R
A	E	N	F	C	N	A	I	F	X	O	E	A	E
T	A	D	N	S	S	D	U	L	L	B	K	M	B
P	A	P	O	O	K	Y	O	T	R	Y	O	Y	E
H	S	I	F	M	T	E	R	N	D	E	N	O	O
C	A	R	E	T	A	I	P	E	A	M	B	I	Y

5. 下圖中共有正方形多少個？

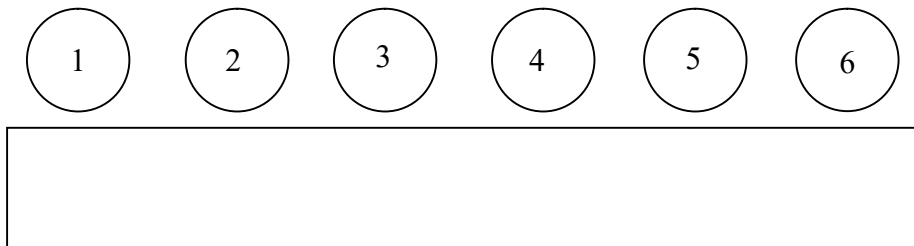
(4分)



6. 若以下算式中每一個英文字母代表從 1 至 9 之中不同的數字，試寫出 LKL 的所有可能值。每個正確答案 3 分，每個錯誤答案扣 1 分。(9分)

$$\begin{array}{r}
 M \ F \ B \ M \\
 +) \ \ \ L \ K \ L \\
 \hline
 2 \ 0 \ 1 \ 5
 \end{array}$$

7.




圖中桌傍有六張椅子，現有爸、媽、兄、弟、姐、妹六人分別坐在 1, 2, 3, 4, 5, 6 六張椅子上。假設爸、媽必須分別坐在左右兩端，而兄、弟必須分開坐。請寫出所有排列的方法。每 2 個正確排列可獲 1 分。(6分)

(分別以 A, B, C, D, E 及 F 代表爸、媽、兄、弟、姐及妹。)

1	2	3	4	5	6
A					B
A					B
A					B
A					B
A					B
A					B
A					B
A					B
A					B
A					B
A					B
A					B

全卷完

初賽答題紙



甲部(選擇題) - 每題 2 分

請用鉛筆填劃答案，如下圖所示：

23. A B C D

- | | | | | |
|-----|--------------------------|--------------------------|--------------------------|--------------------------|
| | A | B | C | D |
| 1. | <input type="checkbox"/> | <input type="checkbox"/> | <input type="checkbox"/> | <input type="checkbox"/> |
| 2. | <input type="checkbox"/> | <input type="checkbox"/> | <input type="checkbox"/> | <input type="checkbox"/> |
| 3. | <input type="checkbox"/> | <input type="checkbox"/> | <input type="checkbox"/> | <input type="checkbox"/> |
| 4. | <input type="checkbox"/> | <input type="checkbox"/> | <input type="checkbox"/> | <input type="checkbox"/> |
| 5. | <input type="checkbox"/> | <input type="checkbox"/> | <input type="checkbox"/> | <input type="checkbox"/> |
| 6. | <input type="checkbox"/> | <input type="checkbox"/> | <input type="checkbox"/> | <input type="checkbox"/> |
| 7. | <input type="checkbox"/> | <input type="checkbox"/> | <input type="checkbox"/> | <input type="checkbox"/> |
| 8. | <input type="checkbox"/> | <input type="checkbox"/> | <input type="checkbox"/> | <input type="checkbox"/> |
| 9. | <input type="checkbox"/> | <input type="checkbox"/> | <input type="checkbox"/> | <input type="checkbox"/> |
| 10. | <input type="checkbox"/> | <input type="checkbox"/> | <input type="checkbox"/> | <input type="checkbox"/> |

- | | | | | |
|-----|--------------------------|--------------------------|--------------------------|--------------------------|
| | A | B | C | D |
| 11. | <input type="checkbox"/> | <input type="checkbox"/> | <input type="checkbox"/> | <input type="checkbox"/> |
| 12. | <input type="checkbox"/> | <input type="checkbox"/> | <input type="checkbox"/> | <input type="checkbox"/> |
| 13. | <input type="checkbox"/> | <input type="checkbox"/> | <input type="checkbox"/> | <input type="checkbox"/> |
| 14. | <input type="checkbox"/> | <input type="checkbox"/> | <input type="checkbox"/> | <input type="checkbox"/> |
| 15. | <input type="checkbox"/> | <input type="checkbox"/> | <input type="checkbox"/> | <input type="checkbox"/> |
| 16. | <input type="checkbox"/> | <input type="checkbox"/> | <input type="checkbox"/> | <input type="checkbox"/> |
| 17. | <input type="checkbox"/> | <input type="checkbox"/> | <input type="checkbox"/> | <input type="checkbox"/> |
| 18. | <input type="checkbox"/> | <input type="checkbox"/> | <input type="checkbox"/> | <input type="checkbox"/> |
| 19. | <input type="checkbox"/> | <input type="checkbox"/> | <input type="checkbox"/> | <input type="checkbox"/> |
| 20. | <input type="checkbox"/> | <input type="checkbox"/> | <input type="checkbox"/> | <input type="checkbox"/> |

- | | | | | |
|-----|--------------------------|--------------------------|--------------------------|--------------------------|
| | A | B | C | D |
| 21. | <input type="checkbox"/> | <input type="checkbox"/> | <input type="checkbox"/> | <input type="checkbox"/> |
| 22. | <input type="checkbox"/> | <input type="checkbox"/> | <input type="checkbox"/> | <input type="checkbox"/> |
| 23. | <input type="checkbox"/> | <input type="checkbox"/> | <input type="checkbox"/> | <input type="checkbox"/> |
| 24. | <input type="checkbox"/> | <input type="checkbox"/> | <input type="checkbox"/> | <input type="checkbox"/> |
| 25. | <input type="checkbox"/> | <input type="checkbox"/> | <input type="checkbox"/> | <input type="checkbox"/> |
| 26. | <input type="checkbox"/> | <input type="checkbox"/> | <input type="checkbox"/> | <input type="checkbox"/> |
| 27. | <input type="checkbox"/> | <input type="checkbox"/> | <input type="checkbox"/> | <input type="checkbox"/> |
| 28. | <input type="checkbox"/> | <input type="checkbox"/> | <input type="checkbox"/> | <input type="checkbox"/> |
| 29. | <input type="checkbox"/> | <input type="checkbox"/> | <input type="checkbox"/> | <input type="checkbox"/> |
| 30. | <input type="checkbox"/> | <input type="checkbox"/> | <input type="checkbox"/> | <input type="checkbox"/> |

乙部(短答題)

1. (a) 作繭自 _____ (b) _____ 之若驚 (c) 首鼠兩 _____ (d) 虎 _____ 龍盤
2. (a) _____ (b) _____ (c) _____ (d) _____ (e) _____
3. (a) _____ (b) _____ (c) _____ (d) _____ (e) _____
4. _____
7. _____

C	A	N	B	E	B	A	N	G	K	O	K	I	P
O	L	A	R	R	E	B	N	A	C	Y	O	I	J
T	E	U	U	E	I	I	P	P	L	N	A	E	O
O	T	C	R	T	J	Y	G	I	G	N	P	L	L
K	E	K	A	L	I	N	A	M	A	I	E	A	I
Y	R	L	L	W	N	E	L	Y	A	L	L	I	L
I	G	A	G	O	G	N	R	T	T	R	O	N	R
A	E	N	F	C	N	A	I	F	X	O	E	A	E
T	A	D	N	S	S	D	U	L	L	B	K	M	B
P	A	P	O	O	K	Y	O	T	R	Y	O	Y	E
H	S	I	F	M	T	E	R	N	D	E	N	O	O
C	A	R	E	T	A	I	P	E	A	M	B	I	Y

1	2	3	4	5	6
A					B
A					B
A					B
A					B
A					B
A					B
A					B
A					B
A					B
A					B

5. 圖中共有 _____ 正方形。
6. LKL = _____, _____ 或 _____

Answers

甲部

1. BDABD 6. DAABA 11. DACAD 16. ACBBC
 21.DCBAA 26.ACCCC

乙部

1. (a) 作繭自縛 (b) 趨之若鶩 (c) 首鼠兩端 (d) 虎踞龍盤
 2. (a) 曾俊華 (b) 張炳良 (c) 黎棟國 (d) 黃錦星 (e) 高永文
 3. (a) APPLE (b) PRIMARY (c) GOLDFISH (d) STUDENT (e) OCTOBER

4.

C	A	N	B	E	B	A	N	G	K	O	K	I	P
O	L	A	R	R	E	B	N	A	C	Y	O	I	I
T	E	U	U	E	I	I	P	P	L	N	A	E	O
O	T	C	R	T	J	Y	G	I	G	N	P	L	L
K	E	K	A	L	I	N	A	M	A	I	E	A	I
Y	R	L	L	W	N	E	L	Y	A	L	L	I	L
I	G	A	G	O	G	N	R	T	T	R	O	N	R
A	E	N	F	C	N	A	I	F	X	O	E	A	E
T	A	D	N	S	S	D	U	L	L	B	K	M	B
P	A	P	O	O	K	Y	O	T	R	Y	O	Y	E
H	S	I	F	M	T	E	R	N	D	E	N	O	O
C	A	R	E	T	A	I	P	E	A	M	B	I	Y

5. 67
 6. 424, 434, 484, 494

7.

1	2	3	4	5	6
A	C	E	D	F	B
A	C	F	D	E	B
A	D	E	C	F	B
A	D	F	C	E	B
A	C	E	F	D	B
A	C	F	E	D	B
A	D	E	F	C	B
A	D	F	E	C	B
A	E	C	F	D	B
A	F	C	E	D	B
A	E	D	F	C	B
A	F	D	E	C	B