

2013【金龍盃】屯門、元朗及荃灣區小學常識問答比賽 - 初賽
限時 60 分鐘，請將所有答案填在答題紙上。

甲部(選擇題) - 每題 2 分，總共 60 分。

- 金磚五國(BRICS)，是指五個主要的新興市場，分別為巴西、俄羅斯、印度、中國及哪一個國家？
 - 南非
 - 古巴
 - 智利
 - 阿根廷
- 以下哪位人士獲得 2012 年諾貝爾文學獎？
 - 劉曉波
 - 高行健
 - 莫言
 - 楊振寧
- 在 2012 年 12 月香港房屋協會推出的資助出售房屋項目(前稱「置安心」)「綠悠雅苑」位於香港哪個地區？
 - 長沙灣
 - 元朗
 - 天水圍
 - 青衣
- 以下哪個國家擁有最多人口？
 - 美國
 - 巴西
 - 印度
 - 日本
- 香港新的遊輪碼頭將建於哪處？
 - 舊尖沙咀海運碼頭
 - 中環
 - 舊啟德機場
 - 大嶼山
- 以下哪一個成語用以比喻避禍藏身的地方很多？
 - 三人成虎
 - 一丘之貉
 - 塞翁失馬
 - 狡兔三窟
- 「憧憬」一詞，「憧」的讀音是甚麼？
 - 重
 - 充
 - 童
 - 崇
- 以下哪一個詞組沒有錯別字？
 - 再接再厲
 - 家全戶曉
 - 青出於籃
 - 贊不絕口
- 賈寶玉是下列哪本古典名著的人物？
 - 西遊記
 - 西廂記
 - 紅樓夢
 - 三國演義
- 以下哪一項不屬於普通話的四種聲調？
 - 陰平
 - 上聲
 - 去聲
 - 切入
- 請選出 心血 這個詞語的普通話聲母：
 - s, s
 - x, s
 - s, x
 - x, x
- We are very attentive as the teacher _____ a story now.
 - tell
 - tells
 - is telling
 - are telling
- One day I went out and _____ my key at home. When I came back I couldn't get in.
 - placed
 - left
 - kept
 - used
- A lot of people _____ Japan, Sweden and France also understand, speak and write English.
 - on
 - at
 - for
 - in

15. Which of the following words is an uncountable noun?
- A. Visitor
 - B. Furniture
 - C. Packet
 - D. Game

16. Which of the following words is NOT an insect?
- A. Dragonfly
 - B. Crocodile
 - C. Caterpillar
 - D. Cockroach

17. $\triangleleft \triangleright \triangleleft \triangle \triangleleft \nabla \triangleleft \triangleright \triangleleft \triangle \triangleleft \nabla$


上圖中，每六個符號會循環顯示，第一百及一百零一個符號分別是：

- A. $\triangle \triangleleft$
 - B. $\nabla \triangleleft$
 - C. $\triangleleft \triangleright$
 - D. $\triangleleft \triangle$
18. 小明將三個數字放在下圖的三個空格內，完成後左邊三個數字的和是 100，中間三個數字的和是 200，右邊三個數字的和是 300，小明應放那個數字在中間？

10					130
----	--	--	--	--	-----

- A. 50
 - B. 60
 - C. 70
 - D. 80
19. 若 $x+y+z = 6$, $x+y-z=2$, $x-y-z=0$, 那 $xyz =$
- A. 4
 - B. 6
 - C. 8
 - D. 12
20. 有一條 500 m 長的自動行人道，它的時速是 4km/h，大強與小強同時踏上自動行人道，大強以 6km/h 的時速在自動行人道上向前走，小強則站立在自動行人道上，當大強到達自動行人道盡頭時，小強在他後面多遠？
- A. 150 m
 - B. 200 m
 - C. 250 m
 - D. 300 m

21. 圖中標誌是由一個正六邊形及六條直線組成，而六邊形的每條邊都被直線分成三等分。陰影部分佔六邊形的幾分之幾？



- A. $\frac{1}{5}$
 - B. $\frac{2}{9}$
 - C. $\frac{1}{4}$
 - D. $\frac{3}{10}$
22. 以下那項是香港特區行政長官梁振英先生未擔任香港特區行政長官時的職業？
- A. 律師
 - B. 建築師
 - C. 測量師
 - D. 精算師
23. 中國共有多少個少數民族自治區？
- A. 二
 - B. 三
 - C. 四
 - D. 五
24. 脂肪肝可演變成甚麼病？
- A. 肝硬化
 - B. 甲型肝炎
 - C. 心臟病
 - D. 乙型肝炎
25. 以下哪一個是諾貝爾和平獎 2010 年度得主劉曉波的妻子？
- A. 劉丹
 - B. 劉霞
 - C. 劉霜
 - D. 劉琳

26. 全球首創「海泥再造磚」將用於哪一個公屋項目？
- A. 將軍澳
 - B. 啟德
 - C. 天水圍
 - D. 青衣
27. 中國於 2012 倫敦奧運會共取到幾多面金牌？
- A. 46
 - B. 42
 - C. 38
 - D. 36
28. 在中國，很多子女因工作長期離開家鄉，年長父母留守農村，這形成什麼社會問題？
- A. 留守兒童
 - B. 留守老人
 - C. 空巢兒童
 - D. 空巢老人
29. 香港人口普查每隔多少年進行一次？
- A. 五年
 - B. 八年
 - C. 十年
 - D. 十五年
30. 特首梁振英的施政報告承諾在哪一年開始每年提供二萬個公屋單位？
- A. 2014 年
 - B. 2015 年
 - C. 2017 年
 - D. 2018 年

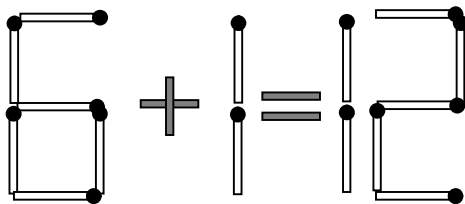
甲部完

乙部(短答題) - 總分 40 分，所有答案填在答題紙上。

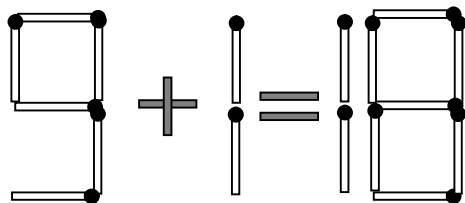
1. 試移動一根火柴，使以下算式為正確。請將正確算式寫在答案紙上。

(9 分)

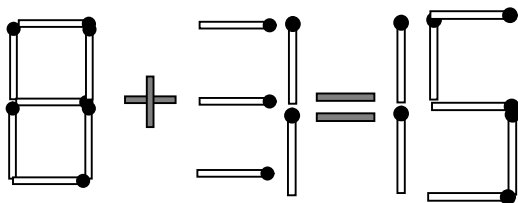
(a)



(b)

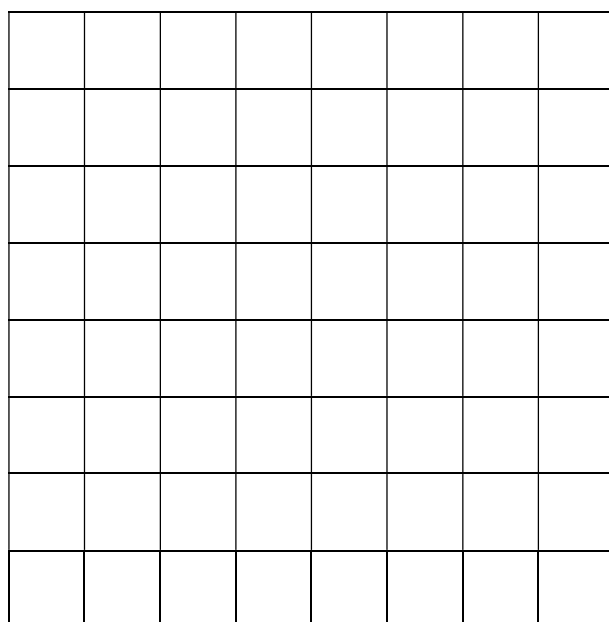
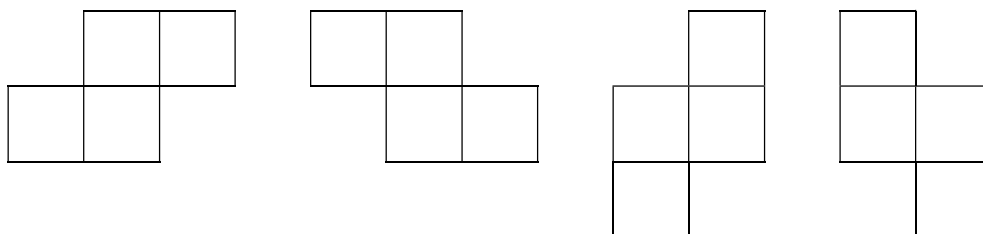


(c)



2. 在圖中的 8×8 方格表中，可以找到多少個以下的形狀？

(5 分)



3. 在所示的算式中，不同的字母代表不同的數字。已知 $T = 4$ 及 $H = 7$ ，求四位數 ANNI 的值。 (6 分)

$$\begin{array}{r}
 F O R T Y \\
 + \quad A N N I \\
 \hline
 H A P P Y
 \end{array}$$

4. Find and circle all of the words that are hidden in the grid. The words may be hidden in any direction. The first three words have been done. 1 mark is awarded for each correct answer. (8 marks)

STUDENT
CLASSROOM
LOCKER
SECRETARY

PRINCIPAL
CLOCK
LUNCHROOM
TEACHER

LIBRARY
JANITOR
NURSE

N D Y R A T E R C E S R M R A Y
 S U K C Y D N Y S U N O L C C R
 H D R Y B A N A C O O C A A J A
 M S I S G E W O H R T T P A E R
 P O R N E Y R L S O U R I R A B
 D S O K C T M S L E B C C A H I
 U C A R A I A N D A H I N L R L
 I H T C H L N Y A A H R I T E S
 T O E T C C E E L S A N R I T O
 L O A I S N N K R E I E B U R A
 N L C L E I B U R A K U D R L T
 E Y H C L O C K L C T E M C A D
 K A E U A I S I O S N O S K S E
 O R R R R S A L O T N T R I E S
 U D D E T E N T I O N I M A N K
 C H I N I L R R O T I N A J Y N

5. (a) Write down the words of three or more letters that you can make from the letters in the following diagram. No letter can be used more than once, and all words must contain the letter in the middle. The first two words have been done. 1 mark is awarded for each correct answer. Names and abbreviations are not counted as correct answers. (5 marks)


S	E	R
A	N	E
T	E	G

- (b) The nine letters in the diagram above can form a word. Write it down. (2 marks)

6. 今屆立法會共有九位議員循新界西地區直選產生，請寫出其中五位的名字。 (5 分)

全卷完

初賽答題紙



甲部(選擇題) - 每題 2 分

請用鉛筆填劃答案，如下圖所示：

23. A B C D

- | | | | | |
|-----|--------------------------|--------------------------|--------------------------|--------------------------|
| | A | B | C | D |
| 1. | <input type="checkbox"/> | <input type="checkbox"/> | <input type="checkbox"/> | <input type="checkbox"/> |
| 2. | <input type="checkbox"/> | <input type="checkbox"/> | <input type="checkbox"/> | <input type="checkbox"/> |
| 3. | <input type="checkbox"/> | <input type="checkbox"/> | <input type="checkbox"/> | <input type="checkbox"/> |
| 4. | <input type="checkbox"/> | <input type="checkbox"/> | <input type="checkbox"/> | <input type="checkbox"/> |
| 5. | <input type="checkbox"/> | <input type="checkbox"/> | <input type="checkbox"/> | <input type="checkbox"/> |
| 6. | <input type="checkbox"/> | <input type="checkbox"/> | <input type="checkbox"/> | <input type="checkbox"/> |
| 7. | <input type="checkbox"/> | <input type="checkbox"/> | <input type="checkbox"/> | <input type="checkbox"/> |
| 8. | <input type="checkbox"/> | <input type="checkbox"/> | <input type="checkbox"/> | <input type="checkbox"/> |
| 9. | <input type="checkbox"/> | <input type="checkbox"/> | <input type="checkbox"/> | <input type="checkbox"/> |
| 10. | <input type="checkbox"/> | <input type="checkbox"/> | <input type="checkbox"/> | <input type="checkbox"/> |

- | | | | | |
|-----|--------------------------|--------------------------|--------------------------|--------------------------|
| | A | B | C | D |
| 11. | <input type="checkbox"/> | <input type="checkbox"/> | <input type="checkbox"/> | <input type="checkbox"/> |
| 12. | <input type="checkbox"/> | <input type="checkbox"/> | <input type="checkbox"/> | <input type="checkbox"/> |
| 13. | <input type="checkbox"/> | <input type="checkbox"/> | <input type="checkbox"/> | <input type="checkbox"/> |
| 14. | <input type="checkbox"/> | <input type="checkbox"/> | <input type="checkbox"/> | <input type="checkbox"/> |
| 15. | <input type="checkbox"/> | <input type="checkbox"/> | <input type="checkbox"/> | <input type="checkbox"/> |
| 16. | <input type="checkbox"/> | <input type="checkbox"/> | <input type="checkbox"/> | <input type="checkbox"/> |
| 17. | <input type="checkbox"/> | <input type="checkbox"/> | <input type="checkbox"/> | <input type="checkbox"/> |
| 18. | <input type="checkbox"/> | <input type="checkbox"/> | <input type="checkbox"/> | <input type="checkbox"/> |
| 19. | <input type="checkbox"/> | <input type="checkbox"/> | <input type="checkbox"/> | <input type="checkbox"/> |
| 20. | <input type="checkbox"/> | <input type="checkbox"/> | <input type="checkbox"/> | <input type="checkbox"/> |

- | | | | | |
|-----|--------------------------|--------------------------|--------------------------|--------------------------|
| | A | B | C | D |
| 21. | <input type="checkbox"/> | <input type="checkbox"/> | <input type="checkbox"/> | <input type="checkbox"/> |
| 22. | <input type="checkbox"/> | <input type="checkbox"/> | <input type="checkbox"/> | <input type="checkbox"/> |
| 23. | <input type="checkbox"/> | <input type="checkbox"/> | <input type="checkbox"/> | <input type="checkbox"/> |
| 24. | <input type="checkbox"/> | <input type="checkbox"/> | <input type="checkbox"/> | <input type="checkbox"/> |
| 25. | <input type="checkbox"/> | <input type="checkbox"/> | <input type="checkbox"/> | <input type="checkbox"/> |
| 26. | <input type="checkbox"/> | <input type="checkbox"/> | <input type="checkbox"/> | <input type="checkbox"/> |
| 27. | <input type="checkbox"/> | <input type="checkbox"/> | <input type="checkbox"/> | <input type="checkbox"/> |
| 28. | <input type="checkbox"/> | <input type="checkbox"/> | <input type="checkbox"/> | <input type="checkbox"/> |
| 29. | <input type="checkbox"/> | <input type="checkbox"/> | <input type="checkbox"/> | <input type="checkbox"/> |
| 30. | <input type="checkbox"/> | <input type="checkbox"/> | <input type="checkbox"/> | <input type="checkbox"/> |

乙部(短答題)

- 正確數式是：
 - _____ (3)
 - _____ (3)
 - _____ (3)
- 共有 _____ 形狀 (5)
- 四位數 ANNI 的值 = _____ (6)

4. Please circle the words in the diagram below.

(8)

N D Y R A T E R C E S R M R A Y
 S U K C Y D N Y S U N O L C C R
 H D R Y B A N A C O O C A A J A
 M S I S G E W O H R T T P A E R
 P O R N E Y R L S O U R I R A B
 D S O K C T M S L E B C C A H I
 U C A R A I A N D A H I N L R L
 I H T C H L N Y A A H R I T E S
 T O E T C C E E L S A N R I T O
 L O A I S N N K R E I E P U R A
 N L C L E I B U R A K U D R L T
 E Y H C L O C K L C T E M C A D
 K A E U A I S I O S N O S K S E
 O R R R R S A L O T N T R I E S
 U D D E T E N T I O N I M A N K
 C H I N I L R R O T I N A J Y N

5.(a) Please write down the words in the spaces provided below.

(5)

(b) The word is

_____ (2)

6. 五位議員的名字是:

(5)


答案

甲部

1. ACDCC 6. DBACD 11. DCBDB
16. BABBD 21. BCDAB 26. BCDCE

乙部

1. (a) 5+7=12 [3]
 (b) 9+7=16 [3]
 (c) 6+9=15 [3]
2. 168 [5]
3. 5880 [6]
4.



5. (a) ANT, NET, RAN, TEN
 GENE, NEAR, RENT, TEEN, TERN, SANG, SEEN, SENT
 (b) TEENAGERS
6. 梁志祥, 麥美娟, 陳偉業, 郭家麒, 田北辰, 梁耀忠, 陳恒鏞, 李卓人, 譚耀宗